



ΕΚΠΑΙΔΕΥΤΗΡΙΑ ΓΕΩΡΓΙΟΥ ΖΩΗ

ΔΗΜΟΤΙΚΟ ΣΧΟΛΕΙΟ

ΤΑΞΗ: Β' ΔΗΜΟΤΙΚΟΥ

ΜΑΘΗΜΑ: ΜΑΘΗΜΑΤΙΚΑ

Αργυρούπολη ___ / ___ / ___

ΟΝΟΜΑΤΕΠΩΝΥΜΟ: _____

Εξάσκηση στα κέρματα του ευρώ

1. Μετράω τα κέρματα και γράφω το ποσό που υπάρχει μέσα σε κάθε κουμπαρά.


















2. Βρίσκω πόσα χρήματα λείπουν σε κάθε παιδί.

Ο Νίκος έχει





Η πορτοκαλάδα κοστίζει 2€

Του λείπουν




Η Στέλλα έχει





Το παγωτό κοστίζει 1€ 70λ.

Της λείπει




Ο Χρήστος έχει



Η μπάλα κοστίζει 3€

Του λείπουν



3. Η Εβίτα αγόρασε μία σοκολάτα που κόστιζε 2€ και 20λεπτά. Έδωσε στο ταμείο 3€. Πόσα ρέστα πήρε;

Λύση: _____

Απάντηση: _____